

Učíme sa doma – úlohy pre žiakov III.B v týždni od 01.04.2020 do 03.04.2020



Milí žiaci, zasielam vám úlohy na ďalší týždeň. Budem veľmi rada, ak mi dáte vedieť, ako ste to zvládli. Ak niečomu nebudete rozumieť, kontaktujte ma na emailovej adrese: zssnp13.bibianahozzova@gmail.com
Triedna učiteľka: Mgr. Bibiána Hozzová

STREDA 01.04.2020

MATEMATIKA

1. Opakovanie – čísla do 100.

– Dopln číselný rad.

1	2			5			8	9	
	12		14		16				20
		23				27		29	
31				35			38		
	42				46				50
			54					59	
61					66		68		
		73		75					80
	82					87			
91			94						100

2. Znázorni čísla pomocou znakov O a /.

Vzor: 25 = O O /////

O = desiatky

/ = jednotky

37 =	40 =
43 =	84 =
91 =	75 =

3. Porovnaj < , > , =.

56	<	65
98		88
43		97

76		67
47		47
61		100

70		69
54		35
12		21







94		56
22		87
100		99




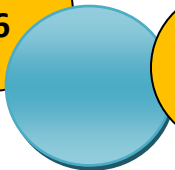

$$\begin{array}{r} 78 \\ -25 \\ \hline 53 \end{array}$$

2. Keď si čísla napíšeš pod seba, bude aj odčítanie ľahšie.


67	96	56	85	67	74	42	95	36	42	98	55
- 45	- 53	- 22	- 42	- 11	- 54	- 42	- 74	- 12	- 20	- 41	- 22




3. Vypočítaj reťazové príklady.


 54 + 2  + 3  - 6  - 2  + 7 


 96 - 20  - 34  + 46  - 75 

4. Vyrieš slovnú úlohu.


 Mama napiekla pagáčiky a dala ich do misy. Hladná Kamila si zobrala z misy 15 pagáčikov. V mise ich zostalo 32. Koľko pagáčikov napiekla mama?

 Mama napiekla
  Kamila zobrala
  Zostalo

Odpoveď:

V miske zostalo _____ pagáčikov.

Takto sa hodnotím:

