

Streda 15.4.2020

Kolko treba
pripočítat? Dopln.

10 + = 11


10 + = 18

10 + = 16


10 + = 20

10 + = 10

Nakresli ešte raz
jedným ťahom.




Spoj bodky od 0 do 20.



Štvrtok 16.4.2020

Zisti, čo treba doplniť. Dopln.



Dopln číselný rad.



Zapíš počet.

Dopln počet a vypočítaj.

Dopln počet a porovnaj.

 2	 + =	 + =	 + =	 + =
 + =	 + =	 + =	 + =	 + =
 + =	 + =	 + =	 + =	 + =

2+2=

5+2=

6+0=

6+4=

1+1=

Piatok 17.4.2020

Vyfarbi podľa výsledku.

9 8 7

Sčítaj najmenšie číslo s najväčším číslom.

10	4	2	+		=	
3	1	10	+		=	
10	4	8	+		=	
7	10	9	+		=	
3	6	10	+		=	
10	0	1	+		=	
7	10	6	+		=	
9	5	10	+		=	
8	10	9	+		=	

Zapíš počet.
Porovnaj.

<input type="text"/>	INÉ
<input type="text"/>	<input type="text"/>

Vypočítaj.
Prirad' písmená k výsledkom.

10	-	4	=		P
7	-	3	=		K
8	-	6	=		J
5	-	0	=		O
9	-	6	=		E

6	3	2	4	5

Prečiarkni.

Urč rozdiel.

	1	2	3
7	6		
8			
9			

Vyfarbi.

