

Príprava na vyučovanie žiakov IV.A triedy Mgr. Novákovej
v týždni od 15.04. – 17.04.2020 z predmetu matematika

15.04.2020 – streda

1. matematika

Téma : Viacciferné čísla – rozklad čísel a zápis čísel slovom a číslom

Obsahom vzdelávacej činnosti je upevnenie a opakovanie učiva – rozklad čísel na jednotky, desiatky, stovky a tisícky, zápis čísel slovom a číslom

1. Zapiš čísla slovom.

Číslo	Slovom
639	
5 314	
8 206	
5 008	

2. Zapiš čísla číslom.

Číslo	Slovom
	päťsto osemdesiatdva
	dvetisíc päťstotridsať
	sedemtisíc štyridsaťpäť
	deväťtisíc dvadsať

3. Rozlož čísla podľa vzoru.

$$4\ 039 = 4\ 000 + 30 + 9$$

$$5\ 274 = \underline{\hspace{2cm}} \quad 402 = \underline{\hspace{2cm}}$$

$$4\ 673 = \underline{\hspace{2cm}} \quad 8\ 285 = \underline{\hspace{2cm}}$$

$$472 = \underline{\hspace{2cm}} \quad 3\ 004 = \underline{\hspace{2cm}}$$

$$8\ 759 = \underline{\hspace{2cm}} \quad 730 = \underline{\hspace{2cm}}$$




16.04.2020 – štvrtok

2. matematika

Téma : Viacciferné čísla – rozklad čísel a grafické znázornenie čísel

Obsahom vzdelávacej činnosti je upevnenie a opakovanie učiva – trojciferné a štvorciferné čísla, rozklad čísel a grafické znázornenie čísel

1. Graficky znázorni čísla pomocou znakov.

 1 000	 100	 10	 1
---	---	--	---

4 213	
3 421	
5 023	
2 305	
3 052	
4 006	

2. Napíš číslo z tisícok, stoviek, desiatok a jednotiek.

Číslo	Tisíciky	Stovky	Desiatky	Jednotky
	0	2	8	3
	1	3	5	7
	2	4	6	8
	6	5	2	9
	3	0	0	8
	4	5	4	9
	5	3	7	8

17.04.2020 – piatok

3. matematika

Téma : Viacciferné čísla - sčítanie a odčítanie pod seba, zaokrúhľovanie
a porovnávanie čísel

Obsahom vzdelávacej činnosti je upevnenie a opakovanie učiva – sčítanie a odčítanie
pod seba, zaokrúhľovanie a porovnávanie čísel

1. Zaokrúhli čísla na jednotky nadol.

3. Zaokrúhli čísla na stovky nadol.

2. Zaokrúhli čísla na desiatky nadol.

4. Zaokrúhli čísla na tisícky nadol.

1.

2.

3.

4.

5 476	≐		7 497	≐		5 984	≐		1 265	≐	
3 687	≐		5 684	≐		5 648	≐		2 584	≐	
9 845	≐		1 254	≐		5 522	≐		3 569	≐	
5 987	≐		6 251	≐		5 444	≐		4 587	≐	
5 487	≐		2 365	≐		5 984	≐		4 569	≐	
1 236	≐		3 654	≐		5 612	≐		5 236	≐	
2 598	≐		5 544	≐		5 694	≐		2 312	≐	

5. Porovnaj čísla. Zakrúžkuj číslo, ktoré je zo štvorice čísel v stĺpci najväčšie.

1564		252		1569		320		5694		262		4857		456
5246		135		5847		142		8475		325		8478		1789
5264		132		8632		257		6854		135		9524		4875
8456		333		5412		584		8472		527		8478		847

6. Vypočítaj a zakrúžkuj najmenšie číslo z trojice čísel pod sebou.

154 427 166 554 422 978 968 598 557
323 452 233 335 434 -844 -438 -235 -425