

Úlohy pre žiakov II. ročníka v týždni od 1. 6. - 5. 6. 2020 z predmetu
Matematika

Téma: Sčítanie a odčítanie prirodzených čísel v obore do 100. Pripočítanie
a odčítanie celých desiatok.

Milí žiaci, posielam Vám úlohy na tento týždeň.

1. Dopln čísla, ktoré chýbajú v číselných radoch – po desiatkach

10	20			50
15	25			55

38		58		78
42		62		82

53		73		93
60				100

34		54		74
56				96

2. Vyfarbi čísla, ktorých súčet sa rovná číslu v hornej časti tabuľky

100

10 20
20 5
10
20
10
20

83

20 2
2 1
20 10
20 50

75

20 1
2 50
5 2
10 10

1. Vypočítaj reťazovky

$\begin{array}{c} \boxed{48} \\ \downarrow + 20 \\ \square \\ \downarrow - 6 \\ \square \\ \downarrow + 30 \\ \square \end{array}$	$\begin{array}{c} \boxed{73} \\ \downarrow - 3 \\ \square \\ \downarrow - 60 \\ \square \\ \downarrow + 59 \\ \square \end{array}$	$\begin{array}{c} \boxed{54} \\ \downarrow + 3 \\ \square \\ \downarrow - 4 \\ \square \\ \downarrow + 20 \\ \square \end{array}$	$\begin{array}{c} \boxed{12} \\ \downarrow + 80 \\ \square \\ \downarrow - 0 \\ \square \\ \downarrow - 50 \\ \square \end{array}$	$\begin{array}{c} \boxed{89} \\ \downarrow - 9 \\ \square \\ \downarrow - 40 \\ \square \\ \downarrow + 37 \\ \square \end{array}$	$\begin{array}{c} \boxed{66} \\ \downarrow + 4 \\ \square \\ \downarrow - 20 \\ \square \\ \downarrow + 28 \\ \square \end{array}$	$\begin{array}{c} \boxed{27} \\ \downarrow + 20 \\ \square \\ \downarrow + 3 \\ \square \\ \downarrow + 40 \\ \square \end{array}$
--	--	---	--	--	--	--

2. Doplň správne znamienka +, -

$35 = 20 \bigcirc 15$

$44 = 14 \bigcirc 30$

$88 = 20 \bigcirc 68$

$75 = 95 \bigcirc 20$

$69 = 10 \bigcirc 79$

$85 = 45 \bigcirc 40$

$91 = 10 \bigcirc 81$

$57 = 47 \bigcirc 10$

$24 = 14 \bigcirc 10$

3. Vyrieš slovnú úlohu

Zuzka má v pokladničke 54 eur. Babka jej na narodeniny dala 20 eur.

Koľko eur má Zuzka v pokladničke spolu ?

V pokladničke..... eur

Babka dala eur

Spolu ?

Zuzka má v pokladničke eur.

1. Vypočítaj

$49 - 20 =$

$45 + 30 =$

$64 - 40 =$

$59 + 10 =$

$98 - 60 =$

$66 + 20 =$

$81 - 60 =$

$47 + 30 =$

$58 - 40 =$

$28 + 30 =$

$82 - 70 =$

$10 + 66 =$

$66 - 50 =$

$70 + 25 =$

$93 - 40 =$

$20 + 58 =$

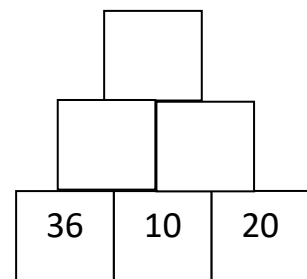
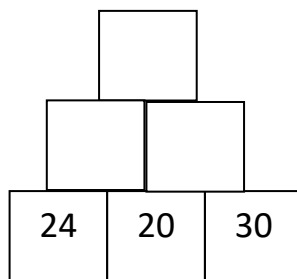
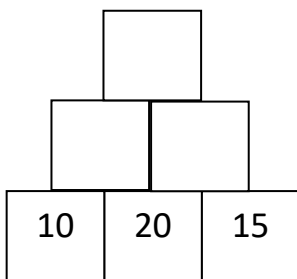
$77 - 30 =$

$38 + 30 =$

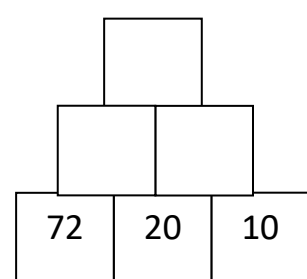
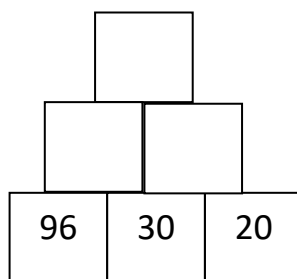
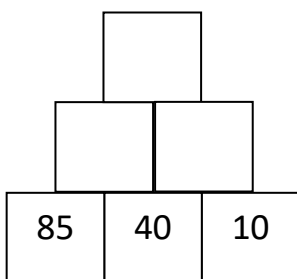
$75 - 60 =$

$41 + 40 =$

2. Vypočítaj sčítacie pyramídy



3. Vypočítaj odčítacie pyramídy



1. Vyfarbi správny výsledok

$15 + 40 =$

55	57	45
----	----	----

$85 - 20 =$

63	64	65
----	----	----

$33 + 10 =$

63	43	53
----	----	----

$72 - 50 =$

50	51	52
----	----	----

$28 + 70 =$

98	99	97
----	----	----

$93 - 30 =$

61	62	63
----	----	----

$49 + 50 =$

79	89	99
----	----	----

$27 - 20 =$

7	8	9
---	---	---

$10 + 76 =$

86	68	66
----	----	----

$66 - 50 =$

16	15	51
----	----	----

2. Zopakuj si a relaxuj

2 =

3 =

4 =

5 =

6 =

7 =

8 =

9 =

Name.....

Zdroje:

1. <https://www.zborovna.sk>