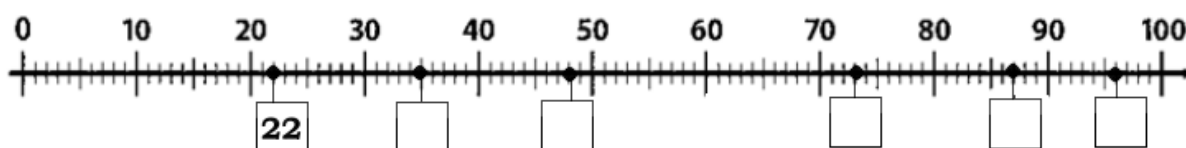


Úlohy pre žiakov II.B v týždni od 15. 6. - 19. 6. 2020 z predmetu
Matematika

Téma: Sčítanie a odčítanie prirodzených čísel v obore do 100.

Milí žiaci, posielam Vám úlohy na tento týždeň.

1. Dopíš do štvorčekov čísla pod vyznačené body na číselnej osi



2. Dopln' číselný rad

18			21				25		
----	--	--	----	--	--	--	----	--	--

36		38				42			
----	--	----	--	--	--	----	--	--	--

60	59			56			53		
----	----	--	--	----	--	--	----	--	--

3. Vypočítaj

$63 + 20 = \square$

$98 - 30 = \square$

$47 + 10 = \square$

$51 + 40 = \square$

$76 - 20 = \square$

$68 - 30 = \square$

$25 + 60 = \square$

$57 - 40 = \square$

$34 + 30 = \square$

$32 + 30 = \square$

$85 - 60 = \square$

$59 - 50 = \square$

$16 + 50 = \square$

$67 - 20 = \square$

$72 + 20 = \square$

Počítaj s veveričkou Vierkou:



Oriešková veverička

Uteká si sem a tam,
oriešky si gúľa.
Jeden väčší, druhý menší
dnu si zakotúľa.

Zavrie chyžky a už čuší,
oriešky si v hrsti drží.

Jeden luskne,
druhý schrúma.

Oriešky sú v brušku
HURÁ

Pomôž veveričke nájsť chýbajúcich členov v sčítacích rodinkách:



1. Prirad' príklad k správne mu slniečku. Vyfarbi príklad rovnakou farbou ako výsledok v slniečku.

55 + 10 = 20 + 28 = 30 + 35 = 40 + 9 = 48 + 0 =

5 + 43 = 39 + 10 = 60 + 5 = 41 + 7 =

65 **48** **49**

75 - 10 = 50 - 2 = 95 - 30 = 98 - 50 = 52 - 4 =

59 - 10 = 89 - 40 = 48 - 0 = 70 - 5 =

2. Vyrieš slovnú úlohu:

Peter má v krabičke 76 kociek. Na stavbu domčeka použil 40 kociek.

Koľko kociek mu v krabičke zostalo?

V krabičke.....


Použil.....


Zostalo..... ? _____



V krabičke mu zostalo kociek.

1. Nájdi správnu cestičku:





Zdroje: 1. <https://www.zborovna.sk>