

Úlohy pre žiakov II.B triedy v týždni od 15. 4. - 17. 4. 2020

Téma: Precvičovanie učiva. Sčítanie a odčítanie v obore do 20 s prechodom cez desiatku.

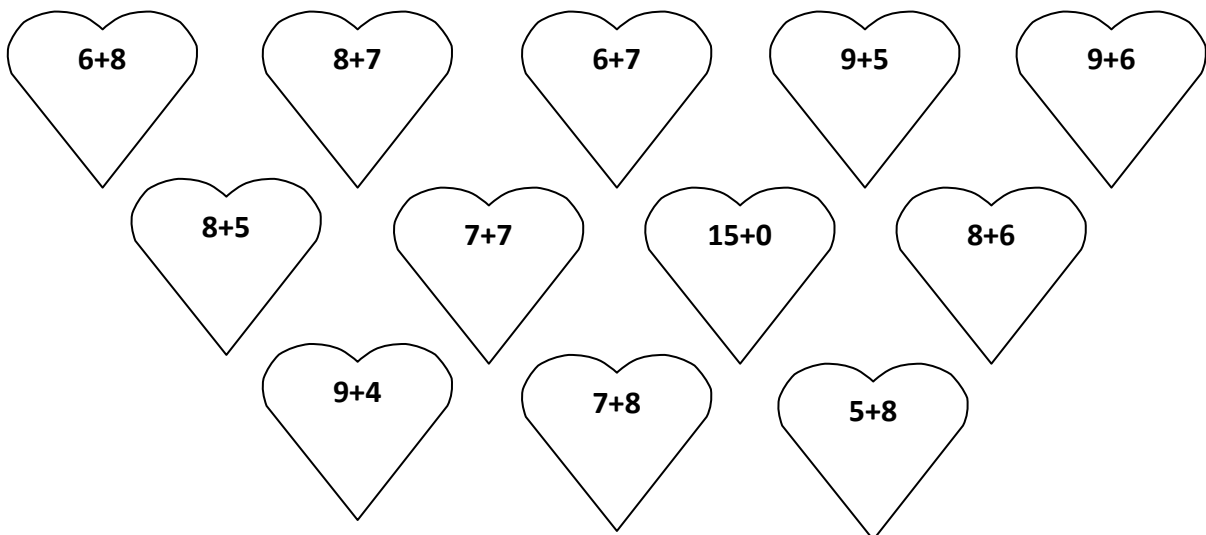
Milí žiaci, posielam Vám zadanie úloh na tento týždeň.

1. Vyfarbi srdiečka podľa výsledkov:

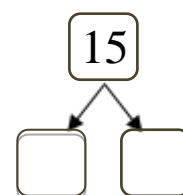
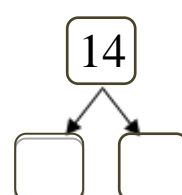
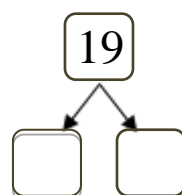
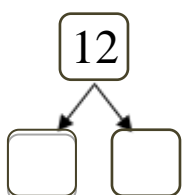
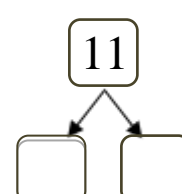
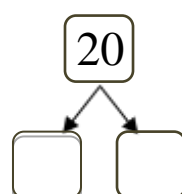
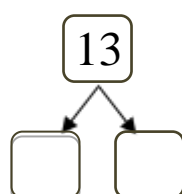
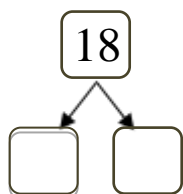
Výsledok 13- žltá farba

Výsledok 14- červená farba


Výsledok 15- zelená farba



2. Rozdeľ čísla na jednotky a desiatky:



1. Vypočítaj:



2. Vypočítaj:

$8 + 12 =$	$15 - 4 =$	$11 - 6 =$	$9 + 4 =$
$7 + 6 =$	$12 - 7 =$	$13 - 7 =$	$3 + 8 =$
$9 + 3 =$	$14 - 5 =$	$8 + 7 =$	$12 - 3 =$
$5 + 8 =$	$16 - 8 =$	$7 + 5 =$	$15 - 7 =$

3. Rieš slovnú úlohu:

Červená čiapočka mala v košíku 13 koláčikov. Cestou zjedla 4.

Koľko koláčikov zostalo babičke ?


Mala

Zjedla.....

Zostalo..... ? _____

Babičke zostalo koláčikov.

1. Vyfarbi geometrické útvary príslušnou farbou a zapíš ich počet 😊:



2. Vyznač farebne. **Priama čiara – červená farba**, **krivá čiara – zelená farba**.

