

Učíme sa doma – úlohy pre žiakov III.B
v týždni od 04.05.2020 do 07.05.2020



Milí žiaci, zasielam vám úlohy na ďalší týždeň. Budem veľmi rada, ak mi dáte vedieť, ako ste to zvládli. Ak niečomu nebudete rozumieť, kontaktujte ma na emailovej adrese: zssnp13.bibianahozzova@gmail.com
Triedna učiteľka: Mgr. Bibiána Hozzová

PONDELOK 04.05.2020

MATEMATIKA

ZOPAKUJ SI NÁSOBENIE
pomocou názoru

Opakovanie
NÁSOBENIE

Vidíme 3 kôpky po 4 jablká

Počítame $4 + 4 + 4 = 12$

Píšeme $3 \cdot 4 = 12$

Čítame 3 krát 4 je dvanásť



1. Spočítaj, koľko je hrušiek na obrázku a doplň príklady do tabuľky.

Vidíme 4 kôpky po hrušky

Počítame 3 + + + =

Píšeme 4 · =

Čítame krát 3 je



2. Vypočítaj.

$2 + 2 + 2 = \underline{\quad}$	$2 + 2 + 2 + 2 = \underline{\quad}$	$5 + 5 + 5 + 5 + 5 = \underline{\quad}$
$5 + 5 + 5 = \underline{\quad}$	$5 + 5 + 5 + 5 = \underline{\quad}$	$50 + 50 + 50 + 50 + 50 = \underline{\quad}$
$20 + 20 + 20 = \underline{\quad}$	$20 + 20 + 20 + 20 = \underline{\quad}$	$25 + 25 + 25 + 25 + 25 = \underline{\quad}$

3. Dopln a spočítaj.

Príklad	Znázornenie	Spolu
5 krát 3 ●		15
2 krát 7 ▲		
8 krát 2 ☆		
6 krát 3 ■		
3 krát 4 ■		

4. Počítaj podľa vzoru.

- Príklady si napíš do zošita.

VZOR: 3 krát 6 je $6 + 6 + 6 = 18$

3 krát 7 je $_ + _ + _ = _$	4 krát 5 je $_ + _ + _ + _ = _$
3 krát 70 je $_ + _ + _ = _$	4 krát 50 je $_ + _ + _ + _ = _$

UTOROK 05.05.2020

MATEMATIKA

1. Opakujeme NÁSOBENIE pomocou názoru.

- Dopln slovnú úlohu.

1. Pozri obrázok a dopĺňaj.
Každý chlapec má vo vrecku 5 kamienkov.
Koľko kamienkov majú chlapci spolu?

-krát po

$5 + \square + \square + \square = \square$

4 krát 5 zapisujeme $4 \cdot 5$

Každé dieťa na obrázku má 3 zošity. Koľko zošitov majú deti spolu?

-krát po + + + + + + =

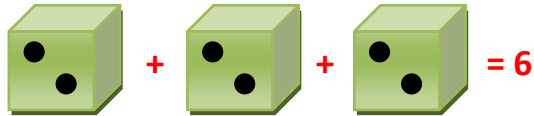
Každé dievča má 6 ceruziek.
Koľko ceruziek majú dievčatá spolu?

-krát po zapisujeme ·

$\square + \square + \square = \square$

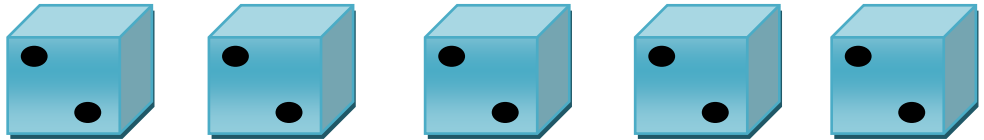
2. Vypočítaj sčítaním aj násobením, koľko je bodiek na kockách.

VZOR:



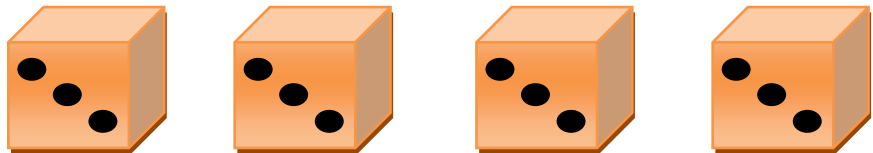
Sčítaním: $2 + 2 + 2 = 6$

Násobením: 3 krát po 2 zapíšeme $3 \cdot 2 = 6$




Sčítaním: _____

Násobením: krát po zapíšeme



Sčítaním: _____

Násobením: krát po zapíšeme



Sčítaním: _____

Násobením: krát po zapíšeme

3. Vypočítaj slovnú úlohu.

Každý chlapec nesie 4 knihy.

Koľko kníh majú chlapci spolu?

Sčítaním: _____

Násobením: _____

Odpoveď:

Chlapci majú spolu kníh.



MATEMATIKA

1. Zopakuj si NÁSOBENIE číslom 1 a 2.

– Uč sa násobilku naspamäť a odpíš si ju do zošita.

1

$0 \cdot 1 = 0$
 $1 \cdot 1 = 1$
 $2 \cdot 1 = 2$
 $3 \cdot 1 = 3$
 $4 \cdot 1 = 4$
 $5 \cdot 1 = 5$
 $6 \cdot 1 = 6$
 $7 \cdot 1 = 7$
 $8 \cdot 1 = 8$
 $9 \cdot 1 = 9$
 $10 \cdot 1 = 10$

Znamienko násobenia označujeme znamienkom **x** alebo bodkou **.**, napríklad:

$$3 \times 2 = 6$$

$$3 \cdot 2 = 6$$

2


$0 \cdot 2 = 0$
 $1 \cdot 2 = 2$
 $2 \cdot 2 = 4$
 $3 \cdot 2 = 6$
 $4 \cdot 2 = 8$
 $5 \cdot 2 = 10$
 $6 \cdot 2 = 12$
 $7 \cdot 2 = 14$
 $8 \cdot 2 = 16$
 $9 \cdot 2 = 18$
 $10 \cdot 2 = 20$

2. Napíš násobky čísla 1 a 2.

1			4				8		
2					12			18	

3. Dopln a vypočítaj.

– Koľko je 7 krát 2 banány?



$$7 \cdot 2 = \boxed{2} + \boxed{2} + \boxed{} + \boxed{} + \boxed{} + \boxed{} + \boxed{} = \boxed{}$$

$$\boxed{} \cdot \boxed{} = \boxed{}$$


4. Vypočítaj.

$3 \cdot 2 =$	$10 \cdot 2 =$	$5 \cdot 2 =$	$8 \cdot 2 =$
$7 \cdot 2 =$	$10 \cdot 1 =$	$9 \cdot 2 =$	$6 \cdot 1 =$

5. Vyrieš slovnú úlohu.

Evička má 3 krabičky pasteliek po 6 kusov.

Koľko kusov pasteliek má Evička?



3	.	6	=	
---	---	---	---	--

6	+		+		=	
---	---	--	---	--	---	--

Odpoveď: Evička má pasteliek.

ŠTVRTOK 07.05.2020

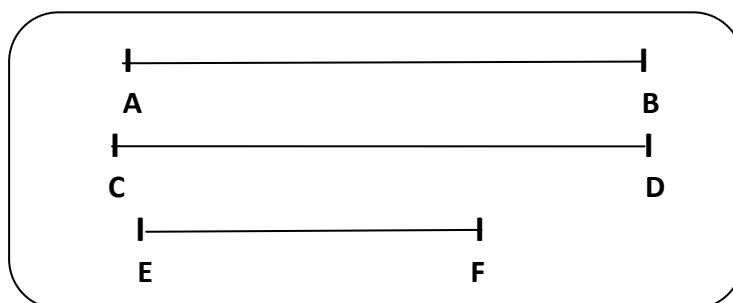
MATEMATIKA

GEOMETRIA
opakovanie

Meranie a rysovanie úsečiek.

ZOPAKUJ SI:

Úsečka je rovná čiara, ktorá má začiatok aj koniec. Krajné body označujeme veľkými písmenami **AB, CD, EF, ...**



Na rysovanie úsečiek používame pravítko.

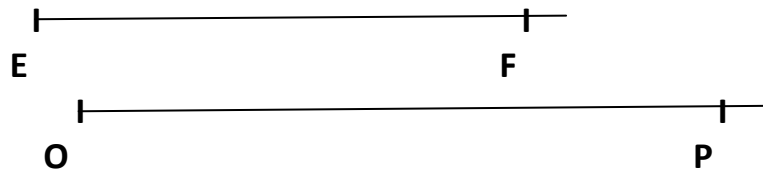


Jednotkou dĺžky je 1 centimeter = 1 cm.

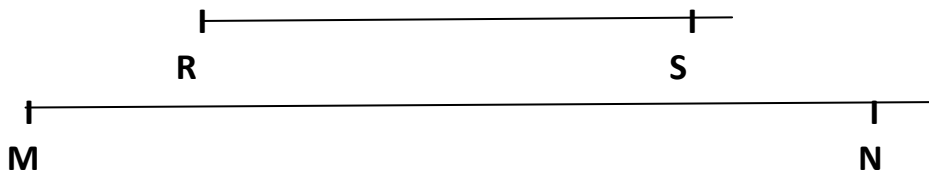
1. Vyznač si v zošite body **A, B, C, D** a narysuj úsečky – **AB** a **CD**.



2. Ktorá úsečka je kratšia a ktorá je dlhšia?



Úsečka EF je _____ ako úsečka OP.



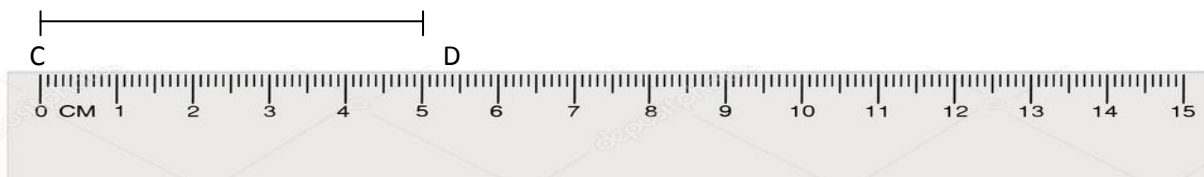
Úsečka MN je _____ ako úsečka RS.

3. Narysuj do zošita 3 úsečky - GH, KL, MN.



4. Koľko cm má úsečka na obrázku.

$|CD| = \underline{\quad\quad}$ cm



Ako sa ti darilo?
Ohodnoť sa:

