

Matematika

Týždeň: 15.06.2020 – 19.06.2020

Téma: Prirodzené čísla 1 až 20. Meranie dĺžky.

Pondelok 15.06.2020

1. Vypočítaj príklady.

10	+	2	=	
----	---	---	---	--

19	-	1	=	
----	---	---	---	--

15	-	5	=	
----	---	---	---	--

16	+	4	=	
----	---	---	---	--

17	+	1	=	
----	---	---	---	--

20	-	1	=	
----	---	---	---	--

2. Urči, akým geometrickým tvarom sa podobajú tieto nakreslené predmety.

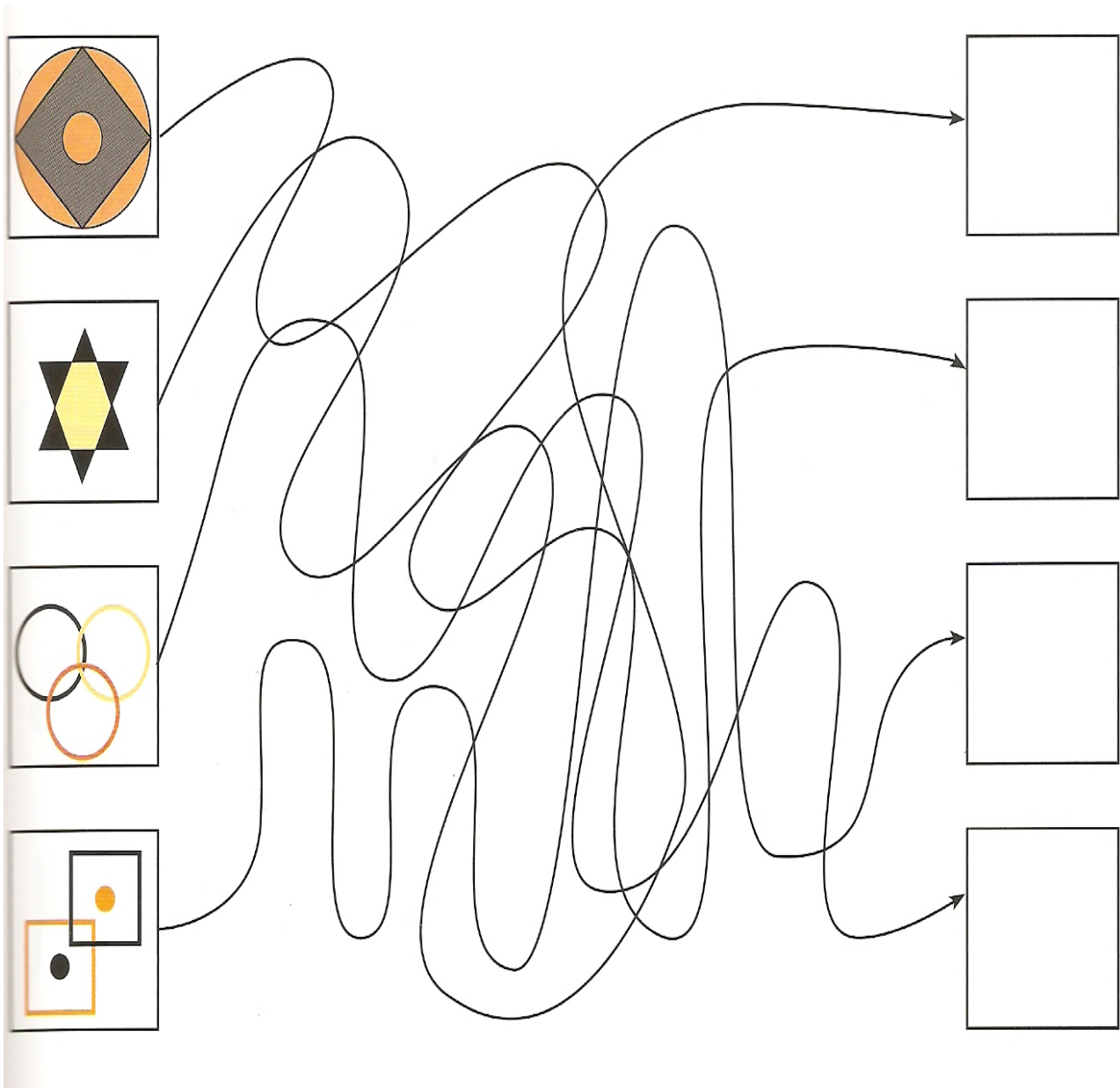


3. Na týchto obrázkoch je 6 rozdielov. Nájdi ich.






Utorok 16.06.2020

4. Pomocou nakreslených čiar a šípok prenes obrazce, ktoré sú vľavo, do voľných štvorčiek vpravo. Nakresli tieto obrazce do správnych prázdnych štvorčiek.



5. V spodnej časti strany sú nakreslené výrezy veľkého obrázka.
Nájdeš, kam patria jednotlivé výrezy? Označ číslom.




Streda 17.06.2020





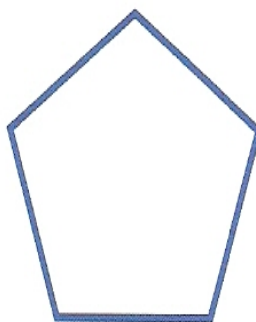
6. Čoho je na obrázku viac, mačiek alebo zvierat? Prečo?



7. Nájdi dva predmety, ktoré môžu vytvoriť dvojicu.
Vysvetli, prečo sa k sebe tieto dva predmety hodia.



8. Vyfarbi trojuholník červenou, kruh modrou a obdĺžnik žltou farbou.



Štvrtok 18.06.2020

9. Pozoruj obrázky. Zisti, ako postupovali. Zapiš poradie. Vypočítaj.




Zitka	12
Zuzka	7
Spolu	?

Spolu doniesli štipcov.

Pero	5
Iné	14
Spolu	?

Nakreslili a nalepili
spolu obrázkov.

Štvorce	16
Kruhy	3
Spolu	?

Z tvrdého papiera vystrihli
spolu tvarov.


Na papiere	11
Na vrecúška	8
Spolu	?

Použili spolu
ozdobných štipcov.

10. Vypočítaj.

+	13	16	14	12	15
2					
4					
-	9	5	10	8	6
3					
5					

11. Vyznač krivou čiarou cestu okolo stromov do domčeka.



Piatok 19.06.2020

12. Pomocou šnúrky odmeraj hrany budov. Dom s najdlhšou hranou vyfarbi načerveno a s najkratšou nažlto.

