

Predmet: Matematika

Trieda : IV.B

Dátum : 11.5 - 15.5.2020

Ahojte štvrtáci !

Pre tento týždeň som vám pripravila nové úlohy z matematiky. Tak sa pustite do práce :) nech sa vám darí !

Do svojich zošitov si najprv napíšte dátum, kto vie, tak sám a kto zabudol, tak si opíše z pracovného listu. Príklady vypočítate, napíšte mi na môj mail, ako sa Vám darilo, ktoré príklady ste zvládli, ktoré nie a spoločne sa na to pozrieme. Kto vie lepšie pracovať s telefónom, môže si ním svoju vypracovanú úlohu odfoťiť a poslať na môj mail- zssnp13.liviacvengrosova@gmail.com

Teším sa na Vaše maily, napíšte mi aj, ako sa darí Vám, aj Vaším rodinám.

PONDELOK - 11. 5. 2020

1. Vyrátaj príklady pod seba, na sčítanie a odčítanie

463	876	152	289	546	3782	1019
25	23	56	11	163	2219	2874
—	—	—	—	—	—	—
643	483	987	666	884	6363	6763
-233	-60	-179	-333	-777	-1253	-5999
—	—	—	—	—	—	—

2. Vyrieš slovnú úlohu. Pozorne si prečítaj zadanie, aj viackrát, porozmýšľaj a potom ju skús vypočítať. Nezapudni na zápis a odpoveď

V sklade mali prepravky s ovocím. Do jedného z obchodov odviezli 800 prepraviek s ovocím. V sklade zostalo ešte 2370 prepraviek. Koľko prepraviek s ovocím mali pôvodne v sklade?

UTOROK - 12. 5. 2020

1. Vypočítaj príklady zamerané na zaokrúhľovanie. Tentoraz zaokrúhľujeme **DESIATKY NADOL**. Nezabudni príklady aj sčítať /1/

3. Vypočítaj. Výsledky zaokrúhli na desiatky nadol.

$3\ 526 + 1\ 042$	=	<input type="text"/>	$\dot{=}$	<input type="text"/>
$345 + 524$	=	<input type="text"/>	$\dot{=}$	<input type="text"/>
$7\ 425 + 450$	=	<input type="text"/>	$\dot{=}$	<input type="text"/>
$352 + 3\ 524$	=	<input type="text"/>	$\dot{=}$	<input type="text"/>
$3\ 524 + 2\ 153$	=	<input type="text"/>	$\dot{=}$	<input type="text"/>
$4\ 517 + 2\ 261$	=	<input type="text"/>	$\dot{=}$	<input type="text"/>
$1\ 067 + 4\ 821$	=	<input type="text"/>	$\dot{=}$	<input type="text"/>
$5\ 320 + 2\ 170$	=	<input type="text"/>	$\dot{=}$	<input type="text"/>

2. Pozorne si prečítaj zadanie a skús vyrátať úlohu: Od oranžových odčítaj **4**, od sivých čísel odčítaj **80** a od červených čísel odčítaj **500**

547	3296	1462
2307	2381	563
7502	5728	8002

STREDA - 13. 5. 2020

1. Sčítaj a odčítaj jednotky, desiatky a stovky

$$6295 + 6 = \quad 762 + 7 = \quad 4984 + 5 =$$

$$6295 + 60 = \quad 762 + 70 = \quad 4984 + 50 =$$

$$6295 + 600 = \quad 762 + 700 = \quad 4984 + 500 =$$

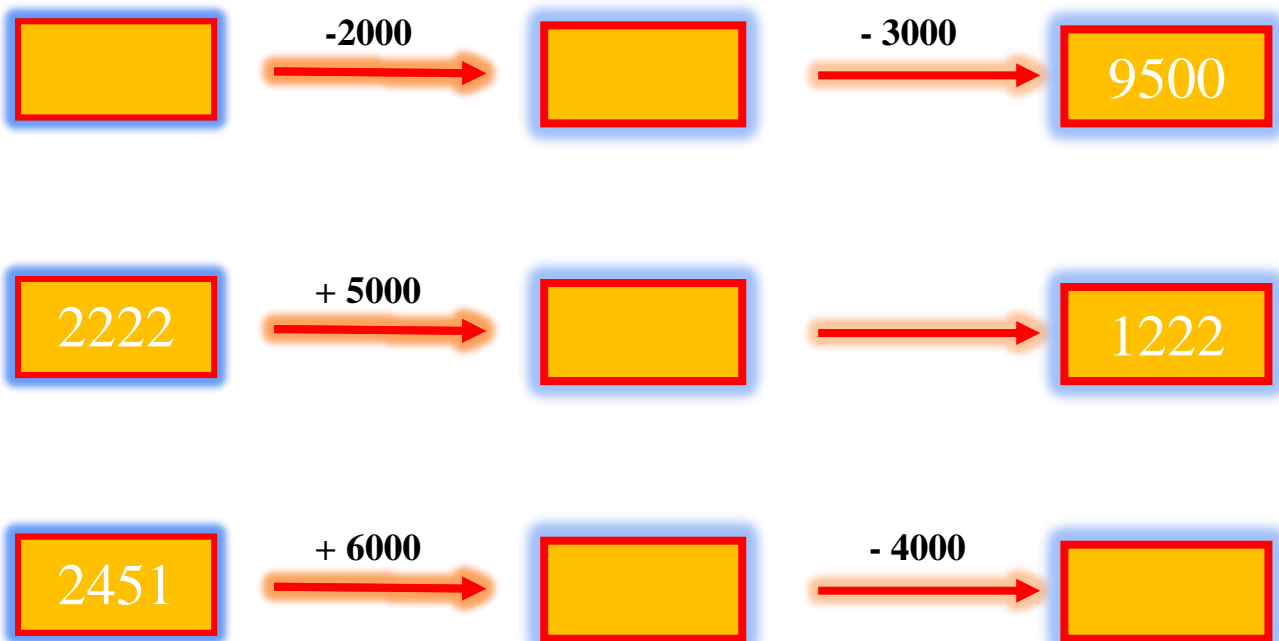
$$9856 - 6 = \quad 1464 - 5 = \quad 2905 - 1 =$$

$$9856 - 60 = \quad 1464 - 50 = \quad 2905 - 10 =$$

$$9856 - 600 = \quad 1464 - 500 = \quad 2905 - 100 =$$

2. Dopln chýbajúce čísla





ŠTVRTOK - 14. 5. 2020

1. Vypočítaj príklady na násobenie a delenie

$6 \cdot 2 =$	$7 \cdot 4 =$	$10 \cdot 5 =$	$8 \cdot 8 =$
$9 \cdot 6 =$	$6 \cdot 5 =$	$7 \cdot 7 =$	$5 \cdot 6 =$
$8 \cdot 7 =$	$4 \cdot 6 =$	$10 \cdot 1 =$	$6 \cdot 8 =$
$7 \cdot 7 =$	$9 \cdot 9 =$	$1 \cdot 8 =$	$9 \cdot 2 =$

$72 : 8 =$	$81 : 9 =$	$56 : 7 =$	$64 : 8 =$
$54 : 9 =$	$54 : 6 =$	$50 : 5 =$	$50 : 1 =$
$42 : 6 =$	$36 : 6 =$	$28 : 4 =$	$14 : 1 =$
$32 : 4 =$	$48 : 6 =$	$56 : 8 =$	$40 : 0 =$

2. Vyhľadaj medzi číslami násobky čísel **3 – **5** – **6****

20 21 22 23 24 25 26 27 28 29 30 31 32 33 34 35

PIATOK - 15. 5. 2020

1. Vypočítaj príklady a potom porovnaj výsledky $> < =$

$365 + 365 =$



$365 + 356 =$

$560 + 440 =$



$999 + 1 =$

$720 + 170 =$



$770 + 120 =$

$1000 - 2 =$



$999 - 1 =$

$872 - 870 =$



$890 - 880 =$

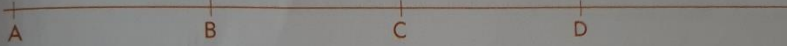
$345 - 44 =$



$344 - 44 =$


2. Prečítaj si pozorne zadanie a porovnaj úsečky

➤ Ak narysujem vedľa seba na priamke 3-krát tú istú úsečku, dostanem 3-krát dlhšiu úsečku.



Úsečka AD je 3-krát dlhšia ako úsečka AB .

Porovnaj dĺžky úsečiek.



Úsečka PN je ___-krát dlhšia ako úsečka PR . Úsečka RU je ___-krát dlhšia ako úsečka AL .

Úsečka RN je ___-krát dlhšia ako úsečka LN . Úsečka PK je ___-krát dlhšia ako úsečka LP .

Úsečka UP je ___-krát dlhšia ako úsečka NO . Úsečka KO je ___-krát kratšia ako úsečka KU .

Vypíš všetky úsečky, ktoré sú dvakrát kratšie ako úsečka NR : _____