

# Matematika

Mgr. Katarína Baráthová


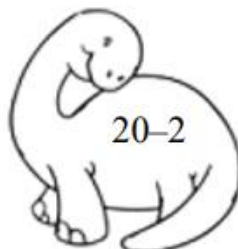
Kontakt: zssnp13.katarinabarathova@gmail.com

Téma: Prirodzené čísla od 0 do 20

1. Zopakujme si čísla v číselnom rade. Čítaj nahlas a ukazuj na prstoch. Nezabudni, ako sme si pri desiatke pomohli nohami a prekríž ich.

0	1	2	3	4	5	6	7	8	9	10
10	11	12	13	14	15	16	17	18	19	20

2. Počítajme s Dinom. Dinosaurov s rovnakým výsledkom vyfarbi rovnakou farbou



3. Dopln + alebo -

$20 \square 4 = 16$

$7 \square 13 = 20$

$19 \square 2 = 17$

$8 \square 4 = 4$

$12 \square 5 = 18$


$3 \square 3 = 0$

$17 \square 3 = 20$


$9 \square 10 = 19$

$16 \square 2 = 14$

$5 \square 13 = 18$



4. Dino písal v škole písomku. Zahraj sa na pani učiteľku a oprav príklady.



$13 + 3 = 17 \square$

$20 - 16 = 4 \square$

$12 + 5 = 16 \square$

$18 - 15 = 5 \square$

$16 + 2 = 18 \square$

$17 - 16 = 1 \square$

$17 + 3 = 19 \square$

$16 - 10 = 6 \square$

$10 + 9 = 20 \square$

$14 - 14 = 0 \square$


5. Porovnaj

$16 \square 17$

$19 \square 19 \quad 15 \square 20$


$12 \square 11$

$18 \square 14$

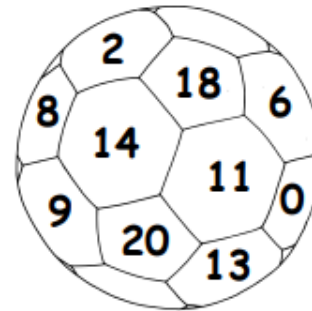
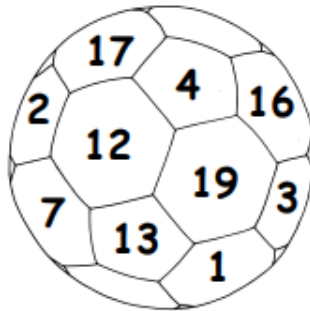
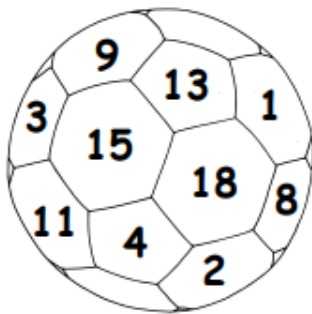


6. Počítaj dinosauriu reťazovku

$$\boxed{10} + \boxed{7} - \boxed{12} + \boxed{5} - \boxed{4} + \boxed{3} = \boxed{\phantom{00}}$$




7. Dino rád hrá futbal. Nájdi v každej lopte najmenšie a najväčšie číslo a vyfarbi ho.



8. Pomôž Dinovi a doplniť číselný rad

1			4					9	
	12				16		18		



9. Usporiadaj čísla od najmenšieho po najväčšie

20, 8, 12, 5, 2, 10 \_\_\_\_\_

0, 18, 3, 13, 6, 5 \_\_\_\_\_

10. Usporiadaj čísla od najväčšieho po najmenšie

5, 10, 0, 19, 20, 8 \_\_\_\_\_

3, 11, 1, 5, 16, 18 \_\_\_\_\_

10, 5, 14, 1, 9, 10 \_\_\_\_\_

11. Aké číslo je hneď pred?

.....2      ..... 8      ..... 19      ..... 12

.....14      ..... 9      ..... 20      ..... 6

12. Aké číslo hneď za?

5.....      9.....      14 .....      19 .....


16 .....      11 .....      7 .....      3 .....

13. Aké číslo je medzi číslami?

16 .....18      9.....11      12.....14

15.....17      18.....20      5.....7

13. Spoj čísla od 1 do 20. obrázok vyfarbi.



Ako sa ti pracovalo?

