

Matematika

Mgr. Katarína Baráthová

Kontakt: zssnp13.katarinabarathova@gmail.com

Aj Vám milí žiaci je už dlho doma? Verte, že aj mne a už by som radšej bola v škole s Vami. No aj keď nemôžeme byť spolu aspoň touto cestou Vám chcem priblížiť školu u Vás doma. Ak nemáš možnosť si to vytlačiť, tak piš výsledky na papier a po vypracovaní poprosím rodičov, aby mi to zasielali na vyššie uvedenú adresu. V prípade nejasností ma kľudne prostredníctvom mailu kontaktujte. Ak by bol záujem aj o ďalšie úlohy navyše kľudne ma oslovte a ja ich zašlem na Váš mail.

Téma: Opakovanie prirodzené čísla v obore 0-20.


1. Spočítaj a vyfarbi správnu číslicu










2. Doplň čísla do štvorčekov v číselnom rade.

1			4					9	
---	--	--	---	--	--	--	--	---	--

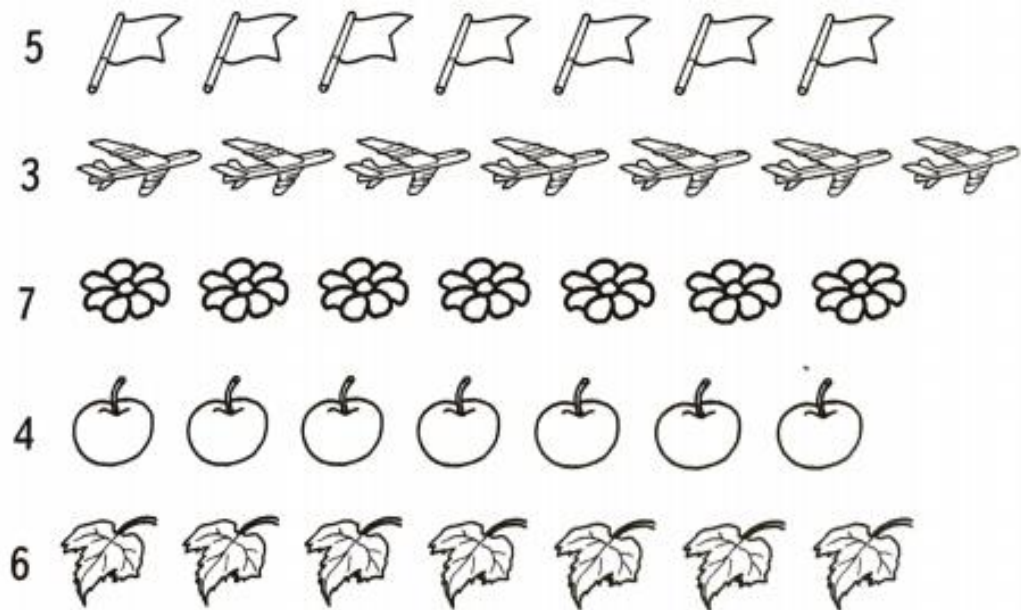
3. Spočítaj a zapíš počet



MENO: _____



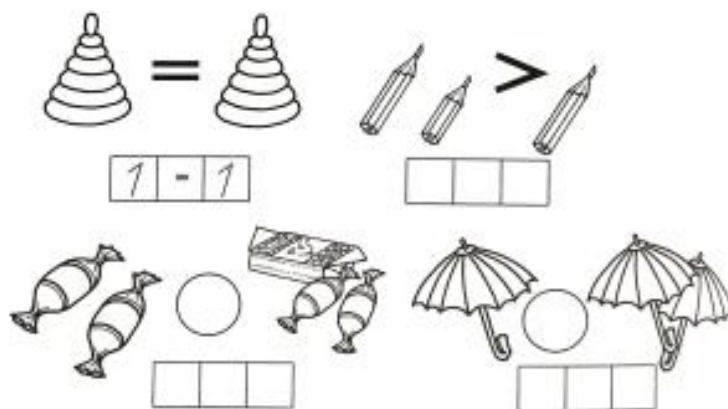
4. Vyfarbi podľa zadania. napr. pri čísle 4 vyfarbi 4 jabĺčka.









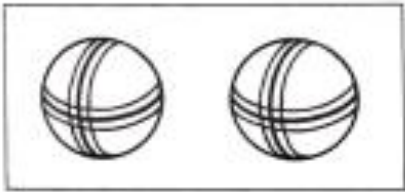



5. Vpíš do okienka susedné čísla.



6. Doplň do okienka čísla a porovnaj.



7. Spoj správné číslo s obrázkem a doplň chýbající číslo, alebo bodky

	1	•	
	2	••	
		•••	
	4		
	5		
		••••	
	7		
		•••••	
	9		
	10		

8. Dopíš čísla do rozkladu

5		6
1		1
2		2
3		3
4		4
		5

9. Vypočítaj



$1 + 1 = 2$



$2 + 1 = \square$



$2 + 2 = \square$



$3 + 2 = \square$



$3 + 1 = \square$



$3 + 3 = \square$

Ako sa ti pracovalo?

